

小学5年 **社 会** — 解答と解説

1

問1	問2	問3	問4		問5
ウ	イ	カ	(1) C	(2) B	エ
21	22	23	24	25	26

問6		問7		問8
⑦ 梅雨	⑧ 台風	しも	(の害を防ぐため)	環太平洋(かんたいへいよう)
27	28	29	30	

問9	問10	問11		問12	
イ	オ	(1) ア	(2) ウ	リ	アス (海岸)
31	32	33	34	35	

問13	問14	問15	問16
イ	エ	エ	三角州(さんかくす)
36	37	38	39

問17		問18
(1) ア	(2) エ	ア
40	41	42

2

問1	問2	問3	問4	問5	問6
エ	ウ	イ	ア	エ	イ
43	44	45	46	47	48

問7	問8	問9			
イ	ア	ラ	ム	サ	ー ル (条約)
49	50	51			

問10	問11	問12	問13
京都 (市)	鳥取 (県)	ウ	ウ
52	53	54	55

問14	問15	問16
琉球 (りゅうきゅう)	ウ	(1) エ
56	57	58

問16	
(2)	滋賀県には日本最大の琵琶湖があり
	湖などの内水面の面積の割合が最も高いから。
59	60 61

3

問1	問2	問3	問4	問5
北西	375 (m)	ウ	ア	ア
62	63	64	65	66

問6	問7	問8
イ	ウ	イ
67	68	69

(配点)

2 問16(2) 5点

1 問4(2) 3点 問18 3点

3 問8 3点

上記以外各2点 計100点

【解説】

① 日本の国土に関する問題

問1 A2 置き換え 比較

本州は面積が約22万7千km²ある、世界で7番目に大きい島です。従って日本全体に占める割合は約60%となります。本州は日本で2番目に大きい北海道の約3倍の大きさです。

問2 A1 比較

日本の最北端は北緯約45度にある択捉島、最南端は北緯約20度にある沖ノ鳥島です。最東端は東経約154度にある南鳥島、最西端は東経約123度にある与那国島です。

問3 B1 置き換え 比較

日本の周囲にはAの日本海流（黒潮）とBの千島海流（親潮）の他に、対馬海流などが流れています。南から流れてくる日本海流と対馬海流が暖流、北から流れてくる千島海流が寒流です。

問4

(1) B1 視点を変える 置き換え 比較

中央高地の気候は、周囲を高い山で囲まれているため降水量が少なく夏と冬の気温の差が大きいという特色があるので、Cとなります。Aは寒さの厳しい北海道の気候、Bは冬の降水量が多い日本海側の気候、Dは夏の降水量の多い太平洋側の気候、Eは温暖で降水量の少ない瀬戸内の気候、Fは気温が高く降水量が多い南西諸島の気候を示す地域となります。

(2) B1 特徴的な部分に注目する 関係づけ

雨温図は新潟県上越市高田で、冬の降水量が多い日本海側の気候を表しています。これは暖流の対馬海流の上を吹いてきた冬の季節風が湿気を多く含み、本州の中央にある越後山脈などの山地山脈を越えるときに日本海側に多くの雪を降らせるためです。

問5 B1 視点を変える 置き換え

夏は大陸に低気圧、海洋に高気圧ができるため、季節風は海洋から大陸に吹きます。日本の場合は方位でいうと南東から吹いてきますのでエとなります。冬はその逆に大陸に高気圧、海洋に低気圧ができるので季節風は北西から吹いてきます。

問6

⑦ A1 知識

6月頃にオホーツク海気団と太平洋高気圧の間にできる梅雨前線によって梅雨がもたらされます。梅雨前線が停滞すると長雨により土砂災害などの気象災害がもたらされます。

⑧ A1 知識

台風は赤道近くの海で発生し、日本に上陸すると強風や豪雨などによる気象災害をもたらしま

す。台風がしばしば通過する沖縄では、家のつくりを低くしたり防風林で家の周りを囲ったりするなどの、台風に対する備えが行われています。

問7 **B1** 視点を考える 理由

茶の新芽は寒さに弱いため、冬から春にかけての低温や晩霜などで地表面の温度が下がると生育に影響が出ます。そのため被害を防ぐために、地表面の温度を上げる防霜ファンが使用されています。茶の栽培には温暖で水はけがよい場所が適していて、静岡県の牧ノ原や鹿児島県の知覧周辺などが産地となっています。

問8 **A1** 知識

環太平洋造山帯は太平洋を取り囲んで広がる造山帯で、火山や地震の発生が多く見られます。日本列島以外に、フィリピン諸島や北アメリカのロッキー山脈、南アメリカのアンデス山脈なども含まれます。

問9 **A1** 比較

フォッサマグナは、本州を東北日本と西南日本に分ける大地溝帯で、ドイツ人のナウマンによって名付けられました。西側は、糸魚川市と静岡市を結ぶ線となっています。東側は火山の堆積物、長年の風化侵食作用がはたらき不鮮明になっています。クリークは筑紫平野などでよく見られた、低湿な平野の耕地の周囲に設けられた灌漑・排水のための水路で、現在でも一部が観光用に使用されています。カルデラは火山の爆発などにより形成される、大きなすり鉢状の凹地（窪地）のこと、シラスは火山灰が堆積した土です。シラスが積もって形成されたシラス台地は鹿児島県や宮崎県などに広がっています。

問10 **B1** 置き換え 比較

飛驒山脈は富山県、新潟県、岐阜県、長野県に、木曾山脈は長野県、岐阜県などに、赤石山脈は長野県、山梨県、静岡県にそれぞれまたがって連なっています。飛驒山脈、木曾山脈、赤石山脈はそれぞれ北アルプス、中央アルプス、南アルプスと呼ばれることもあります。この三つの山脈を総称して「日本アルプス」といい、日本アルプスという名称はイギリス人によって命名されました。

問11

(1) **B1** 置き換え 比較

鹿児島県の桜島は1914年の噴火で流出した溶岩が海峡を埋め、対岸の大隅半島と陸続きになりました。阿蘇山は熊本県、有珠山は北海道、浅間山は長野県と群馬県の境にあります。

(2) **A2** 分類

火山活動で形成されたカルデラに水がたまって形成されたカルデラ湖には他に、北海道の洞爺湖や支笏湖などがあります。静岡県にある浜名湖は、入り江の入口が土砂で塞がれて形成された

湖です。現在は室町時代に発生した地震により遠州灘とつながっているため海水と淡水が入り交じっている汽水湖となっています。

問12 **A1** 知識

リアス海岸は、岬と入り江が鋸の歯のように並んでいる海岸です。入り江はV字形になっていて、奥に行くに従って狭まっているため、津波の被害が大きくなりやすくなっています。リアスとはスペイン語で入り江を意味するリアの複数形です。日本ではリアス海岸は、長崎県の大村湾、福井県などの若狭湾、愛媛県の宇和海周辺の他に、東北地方の太平洋側にある三陸海岸や、三重県の志摩半島の英虞湾周辺などで見られます。

問13 **A2** 具体・抽象 比較

干潟はある程度以上の面積を持つ、細かい砂や泥が堆積した海岸部の湿地で、潮の干満により陸地と水面下になることを繰り返す地形のことで、日本では有明海沿岸のものが有名です。かきやまだいの養殖場はある程度の水深がないとつくることはできません。

問14 **B1** 置き換え 比較

Aの庄内平野は山形県北西部にある平野で、最上川下流部にあります。江戸時代に北前船の寄港地として米や紅花を扱って栄えた酒田市や、城下町として発展した鶴岡市などがあります。また庄内平野の日本海沿いには砂丘が発達しています。Bの濃尾平野南部では木曾川・長良川・揖斐川の3つの大きな河川が集中していて、洪水による被害が多発していたため、堤防で集落の周囲を囲んだ輪中が設けられ、集落には盛り土をした上に避難場所としてつくられた水屋が見られました。Cの讃岐平野は、南北に中国山地、四国山地があるため、降水量が比較的少なくなっています。そのため干害に見舞われやすく、多くのため池がつくられています。現在では水不足を解消する目的のために、吉野川から引水する香川用水が建設されています。Dの筑紫平野は有明海の干拓によりその面積が拡大してきました。

問15 **A2** 関係づけ 比較

福島盆地を流れる川は阿武隈川です。北上川は岩手県北部の七時雨山付近に発し、北上盆地、仙台平野を流れて三陸海岸の追波湾に注ぐ全長約249kmの川です。以前は石巻湾に注いでいましたが、度重なる洪水から石巻などの地域を守るため、追波湾に注ぐ放水路が設けられました。

問16 **A1** 知識

三角州は川の堆積作用により海や湖の河口付近に形成されます。広島市を流れる太田川の他に三重県の雲出川、青森県の岩木川などの河口付近にその顕著なものが見られます。ギリシャ文字でデルタと読むΔに形が似ているところから、デルタと呼ばれることもあります。

問17

(1) A2 関係づけ 比較

阿武隈川は那須岳付近を水源として郡山盆地、福島盆地を流れて宮城県岩沼市で太平洋に注ぐ全長約239kmの川です。田沢湖から流出している川はありません。田沢湖は水深が約423mの日本で最も深い湖です。

(2) A2 分類

利根川は越後山脈を水源として群馬県前橋市、埼玉県深谷市、茨城県取手市、千葉県我孫子市などを流れて銚子市付近で太平洋に注ぐ、流域面積が日本最大の約16840km²の川です。以前は東京湾に注いでいましたが、江戸を水害から守るなどの目的で、江戸時代初め頃に現在の流路につけかえられました。

問18 B1 特徴的な部分に注目する 置き換え 比較

日本の川は最も長い信濃川でも約367kmしかなく、約6000km以上あるナイル川やアマゾン川に比べ大変短くなっています。一方日本は山がちで、3000m級の山から流れる川はその流れが急になっています。

② 都道府県に関する問題

問1 A1 比較

秋田市で行われる竿燈は、8月3日から4日間にわたり開かれる祭りで、多くの提灯をつけた長い竹竿を手のひらや腰などで支える技を披露します。花笠は8月に山形市などで行われる祭りで、笠に赤く染めた紙の花飾りをつけ踊ります。七夕は仙台市で8月6日から8日にかけて行われる祭りで、江戸時代からの歴史があります。ねぶたは青森市などで8月上旬に行われる祭りで、鬼や武士などをかたどった山車が町中を進みます。

問2 A2 置き換え 比較

八郎潟では北緯40度、東経140度の経緯線が交差しています。日本の国土はおおよそ北緯20度から45度、東経123度から154度の間に広がっています。

問3 A1 比較

八郎潟の干拓は1957年から開始され、1964年に完成し大潟村がつくられました。大潟村は干拓された旧湖底にあるため、海面下の土地が広がっています。現在あきたこまちなどの生産が盛んです。東海村は茨城県、孺恋村は群馬県、六ヶ所村は青森県にあります。

問4 A1 比較

茨城県水戸市にある偕楽園は徳川御三家のひとつ、水戸藩第9代藩主である徳川斉昭によってつくられた日本三名園の1つです。日本三名園には他に岡山県岡山市にある後楽園、石川県金沢市にある兼六園があります。六義園は東京都文京区にある大名庭園です。

問5 B1 特徴的な部分に注目する 置き換え 比較

霞ヶ浦は茨城県南東部に広がる面積約168.2km²の日本で2番目に広い湖です。正式には西浦、北浦、常陸利根川などを総称して霞ヶ浦と呼びます。アは北海道のサロマ湖、イは北海道の洞爺湖、ウは山梨県の山中湖です。

問6 A1 比較

八ヶ岳の麓に広がる野辺山原は標高が1000mを超しているため、夏でも涼しい気候を活かしてキャベツやレタス、はくさいなどの野菜を、他の産地と時期をずらして栽培しています。また連作による障害を防ぐために1年ごとに植える作物を変える輪作などのくふうを行っています。牧ノ原は静岡県、三本木原は青森県、笠野原は鹿児島県にある台地です。長野県の平均標高は約1132mです。以下山梨県の995m、群馬県の764m、岐阜県の721m、富山県の665mとなっています。

問7 A2 分類

長野県は山梨県、埼玉県、群馬県、新潟県、富山県、岐阜県、愛知県、静岡県の8県と接しています。逆に最も少ない県は、となりあう県のない北海道と沖縄県を除くと長崎県で、陸上では佐賀県と接しているだけとなっています。

問8 A1 比較

長野県の県庁所在地である長野市は、善光寺の門前町として発展した2023年の人口が約37万人の都市です。江戸時代は北国街道の宿場町としても賑わいました。善光寺は602年に開かれたとされていて、現在の本堂は1701年に再建されたものです。金剛峯寺は和歌山県の高野山、中尊寺は岩手県、法隆寺は奈良県にありそれぞれ世界遺産に登録されています。

問9 A1 知識

ラムサール条約は正しくは「特に水鳥の生息地として国際的に重要な湿地に関する条約」といい、鳥類などの生息地となっている湿地や干潟を保護するための条約です。琵琶湖の他に栃木県の奥日光の湿原や千葉県の谷津干潟、北海道の釧路湿原など多くの登録地があります。1971年にイランのラムサールで採択されました。

問10 A2 置き換え

政令指定都市は人口50万人以上の都市のうち、内閣が定める政令によって指定された都市のことで、行政上は都道府県とほぼ同じとなり、都道府県の業務の多くが移譲されます。北海道地方には札幌市、東北地方には仙台市、関東地方には千葉市、さいたま市、横浜市、川崎市、相模原市、中部地方には新潟市、静岡市、浜松市、名古屋市、近畿地方には京都市、大阪市、神戸市、堺市、中国地方には岡山市、広島市、九州（・沖縄）地方には北九州市、福岡市、熊本市の各政令指定都市があります。大津市は京都市と隣り合っています。

問11 A1 知識

日本で最も人口の少ない鳥取県の人口は、2022年10月で約54万4千人です。次いで島根県、高

知県の順になります。

問12 **A1** **知識**

島根県大田市の石見銀山は『石見銀山遺跡とその文化的背景』として世界遺産に登録されています。石見銀山は戦国時代から江戸時代にかけて大量の銀を産出し、当時のヨーロッパの地図にも地名が記載されています。厳島神社は広島県廿日市市に、姫路城は兵庫県姫路市に、沖ノ島は福岡県宗像市にそれぞれあります。

問13 **B1** **視点を変える** **比較**

西表島は面積が約290km²の島で、沖縄県では沖縄島に次ぐ大きさとなっています。イリオモテヤマネコやカンムリワシ、セマルハコガメなど希少な生物種が生息していることなどの理由から、奄美大島、徳之島、沖縄島北部とともに2021年に世界自然遺産に登録されました。また浦内川や仲間川の河口周辺ではマングローブの原生林が見られます。沖縄島から南西方向に宮古島、石垣島、西表島、与那国島の順に連なっていて、与那国島から台湾までは約110kmとなっています。

問14 **A1** **知識**

琉球王国は1429年に成立し、1879年の琉球処分まで琉球諸島を中心に存在した独立王国です。王宮は首里（那覇市東部）にありました。

問15 **B1** **視点を変える** **置き換え** **比較**

那覇からは台北までは約500km、福岡と上海までは約900km、東京と香港、ピョンヤンとマニラまでは約1500kmと、那覇は東アジア各地を結ぶ位置にあります。

問16

(1) **B2** **特徴的な部分に注目する** **比較**

(2) **B2** **視点を変える** **推論** **比較**

琵琶湖は面積が約669.3km²あり、これは滋賀県全体の約6分の1を占めています。従って湖などの内水面の割合が一番大きいエを滋賀県と判断します。問題文などから山地の割合が最も大きいイを長野県、エ以外で内水面の面積が大きいウとオのどちらかを霞ヶ浦と宍道湖のある茨城県、島根県と判断します。常総台地や利根川沿いに低地の広がる茨城県をウ、残ったオを島根県と判断し、さらに残ったアとカのうち山地の割合が高いカを秋田県、丘陵地や台地の割合が高いアを沖縄県と判断します。理由を問われた場合、文末は「～から」で終わるようにしましょう。

③ 地形図に関する問題

問1 **B1** **特徴的な部分に注目する** **置き換え**

地図は方位記号がない場合、原則として上が北となっています。老人ホームの地図記号は H ですので、A駅から見て北と西のあいだにありますから北西となります。





問2 A2 置き換え

この地形図では細い実線の主曲線は10mおきに、太い実線の計曲線は50mおきに描かれてい
ます。国土地理院発行の縮尺が2万5千分の1の地形図では、等高線は10mおきに描かれると定め
られていますので、この地形図の縮尺は2万5千分の1です。原図上で1.5cmですから 1.5×25000
 $\div 100$ で375mとなります。

問3 B1 視点を定める 特徴的な部分に注目する 比較

C駅とD駅の間には等高線が7本ありますから標高差は70mとなります。




問4 B1 視点を定める 置き換え 推論

ロープウェーのD駅の脇には寺院の地図記号がありますので、このロープウェーは寺院への
参拝客を運ぶ目的で建設されたと考えられます。神社の地図記号は、博物館の地図記号は
、史跡・名勝・天然記念物の地図記号はです。史跡・名勝・天然記念物は文化財保護法に基づい
て表示されています。茶畑の地図記号と似ていますが、点が大きくなっています。

問5 B1 視点を定める 置き換え 分類

税務署の地図記号は、図書館の地図記号は、漁港の地図記号は、病院の地図記号はです。









問6 B1 視点を定める 置き換え 関係づけ

E付近で見られる地図記号はで、これは畑の地図記号です。畑では小麦や野菜などが栽培さ
れますのでイとなります。りんごは果樹園で、茶は茶畑で栽培されます。竹林の地図記号は
心です。果樹園ではりんごの他にみかん・梨・栗・ぶどうなどを栽培しています。茶畑の地図記
号は、お茶の実を割ったところを表しています。

問7 B1 置き換え 比較

郵便局の地図記号は通信(ていしん=郵便や電信などを扱うこと)の「テ」の字形を地図記号
化したものですが、外国人には分かりづらいため2016年に国土地理院により外国人向けに新たに
定められました。アは博物館/美術館、イはコンビニエンスストア/スーパーマーケット、エは
観光案内所の外国人向け地図記号です。

問8 B1 視点を定める 特徴的な部分に注目する 具体・抽象 比較

城あとのある山に広がっているのは針葉樹林です。広葉樹林の地図記号はです。町村役
場の地図記号は、市役所の地図記号は、高等学校の地図記号は、小中学校の地図記号は、
温泉の地図記号はです。

(記述問題の採点について)

・明らかな誤字・脱字がある場合… - 1点

